



Oslo

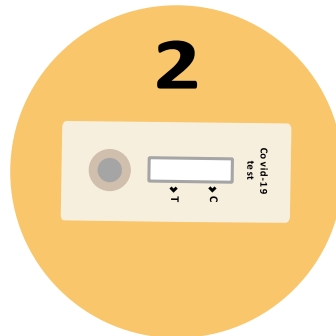
چۆن خۆت و مندالە کهت دەپشکنیت؟

1. دەسته کانت به ته واوی بشۆ



2. که رهسته ی پشکنینه که ده ره بهینه

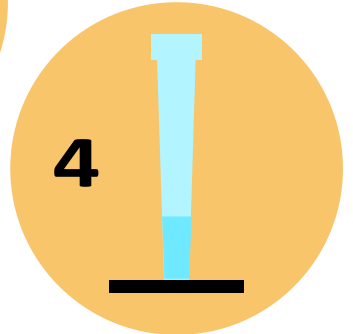
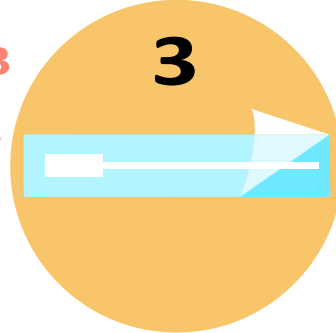
شریتی پشکنینه که له سه ر پوویه کی پته و و تهخت دابئی.



3. سوای پشکنینه که که پیچراوه بیکه وه.

4. ئەو لووله یه بکه وه که شله که ی تیدایه .

له سه ر پوویه کی پته و و تهختی دابئی. وریابه هب له شله که نه رژت.



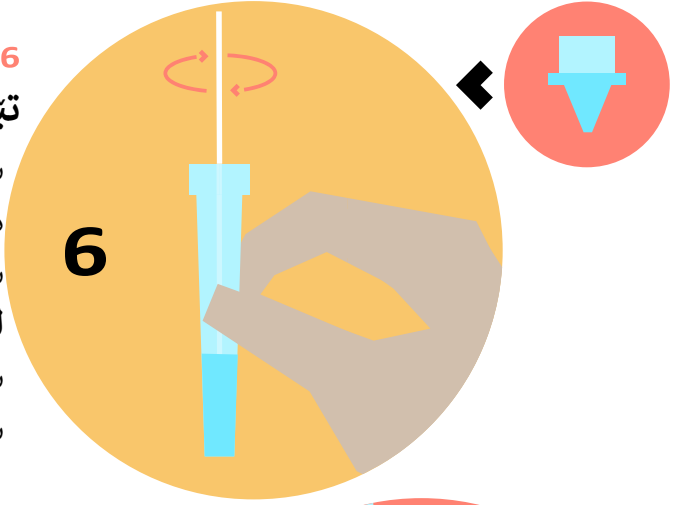
5. پشکنینه که وه ربگره

گه وه کان ده توانن خویان پشکنینه که ئەنجام بدن هه له قورگ و هه میش له لوته وه. سه ره تا، پشکنینه که له قورگه وه ئەنجام بده. ده مت بکه وه و سوابه که به پشته وه ی قورگتدا، له شوینه ی له وزه تینه کان، بخشینه. هه ر لایه کی 4 جار بخشینه. پاشان به وریاییه وه سه ری سوای پشکنینه که بخه ناو کونه لوتت. هه رکه ته واوی سه ره که ی چوو ه ناو کونه لوتت بوسته و که هه ستت به به رگریه ک کرد. سوابه که 5 جار به ناو کونه لوتتدا بسورپینه. ئەمه له کونه لوته که ی تریش دووباره بکه وه. مندالانی پشکنینی خۆی ته نها به لوت ئەنجام ده ده ن.



6. سوابه که بخه ناو ئه و لووله یه کی که شله که ی تیدایه

سوابه که 6 جار له ناوی شله که دا تیک وه ریده له هه مانکادا لووله که بگوشه.
سوابی پشکنینه که بۆ ماوه ی 1 خوله ک له لووله دا جی بهیله.
سوابه که دهر بهینه له کاتیکدا لووله که ده گوشت. سهره که بخه وه سهر لووله که.



7. 4 دلۆپه بگوشه له لووله که وه بۆ سهر کونی ناو شریتی پشکنینه که

15 خوله ک چاوه ری بکه و پاشان سهیری ئه نجامه که بکه (کاتگروهه دابئی یان چاویکت له سهر کاتزمیره که بیته)

